

RALLYE MATHÉMATIQUE CYCLE 1

GS – MANCHE 2

Bonjour les amis, vous vous souvenez de moi ? Je suis Bertrand le renard. Pour cette deuxième manche, les règles restent les mêmes. Il y a trois énigmes. Pour y répondre, vous allez pouvoir réfléchir seul ou vous mettre en petits groupes. Vous n'avez pas le droit de demander la réponse au maître ou à la maîtresse. Vous devrez vous mettre tous d'accord pour ne donner qu'une seule réponse.

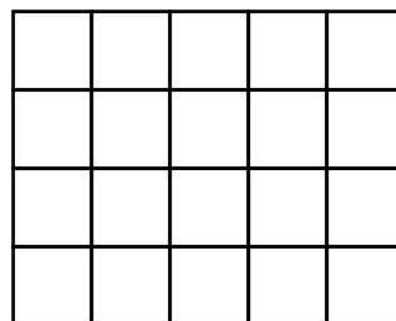
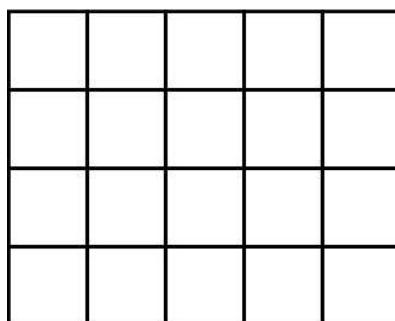

Quand vous aurez fini, envoyez-moi vos réponses par courrier postal ou par mail (eh oui, j'ai internet dans ma tanière).

Bonne chance à vous !



RALLYE MATHÉMATIQUE CYCLE 1 – GS – MANCHE 2
GÉOMÉTRIE

Les amis ! J'ai besoin de votre aide. Regardez tous mes jouets : ils sont en bazar dans ma chambre. Pouvez-vous m'aider à les ranger dans les boîtes ? Les deux boîtes doivent être complètement remplies : pas une seule case blanche.



Envoyez-moi une photo des boîtes rangées en vous aidant de l'annexe envoyée par mail.

RALLYE MATHÉMATIQUE CYCLE 1 - GS - MANCHE 2
LOGIQUE

Miam ! Je vais me régaler ! Papa m'offre une glace deux boules. J'ai le choix entre trois parfums : vanille, fraise et chocolat.



Zut ! Je n'arrive pas à me décider. Pouvez-vous m'aider ? Combien de combinaisons sont réalisables avec ses trois parfums ? Attention : vanille/fraise est la même combinaison que fraise/vanille.

Inscrivez la réponse dans le cadre

RALLYE MATHÉMATIQUE CYCLE 1 - GS - MANCHE 2
ARITHMÉTIQUE



**Dans cette école maternelle,
dix élèves font la sieste.
Quand ils sont réveillés, ils
sortent jouer dans la cour.**



**Tout le
monde dort.**



**Il n'y a personne
dans la cour.**

**Aujourd'hui, tous les
élèves ne se sont pas
réveillés en même temps.
Pouvez-vous deviner
combien d'enfants
dorment encore ?**



Inscrivez la réponse dans le cadre