

RALLYE MATHÉMATIQUE CYCLE 1

MS – MANCHE 3



Salut les amis, c'est Bertrand !

Ça y est ! C'est déjà la fin de notre rallye mathématiques. Bravo à tous vous avez été très forts, On peut s'applaudir ! Tous ensemble vous avez réussi à résoudre les défis.


Voici mes réponses des deux dernières manches. Comparez vos résultats avec les miens pour voir si vous aviez les bonnes réponses.

En tout cas, j'espère que vous continuerez à faire des mathématiques et que l'on se retrouvera bientôt !



RALLYE MATHÉMATIQUE CYCLE 1 - MS - MANCHE 3
GÉOMÉTRIE & LOGIQUE

Regardons combien de triangles on pouvait faire avec mes crayons tombés par terre ?



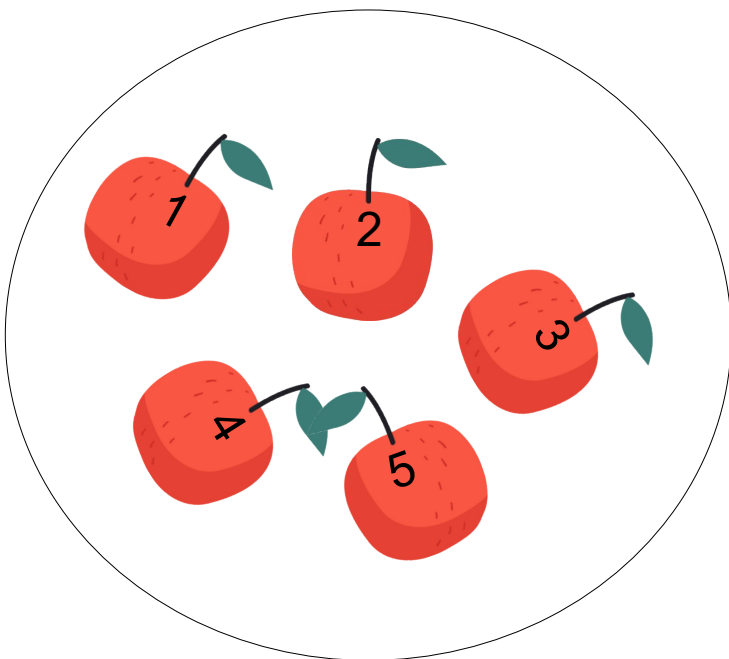

La bonne réponse était :

On peut faire quatre triangles avec tous les crayons tombés par terre. Il reste deux crayons en plus.

RALLYE MATHÉMATIQUE CYCLE 1 - MS - MANCHE 3
LOGIQUE / ARITHMÉTIQUE



Alors avez vous trouvé combien de
pommes il me restait pour faire ma
compote ? Vérifions ensemble !



La bonne réponse était :

Il reste cinq pommes pour préparer la compote.