

RALLYE MATHÉMATIQUE CYCLE 1

MS – MANCHE 3



Bonjour tout le monde !

Je m'appelle Bertrand. Je suis un renard qui adore se poser plein de questions. Voulez-vous bien m'aider à trouver les réponses ?

Cette année, je vais vous proposer trois manches, avec deux défis par manche. Voici la troisième manche. A vous d'essayer de résoudre les deux défis, seuls ou avec l'aide de vos copains et copines. Mais les adultes ne doivent pas vous donner les réponses !

Dernière chose : toute la classe doit se mettre d'accord sur une seule réponse





Amusez-vous bien !



GÉOMÉTRIE



As-tu déjà observé ces panneaux sur le bord des routes ? Sauras-tu me dire combien de panneaux ont une forme triangulaire ? Et combien de panneaux ont une forme ronde ? Et combien de panneaux ont une forme carrée ?



Notez dans le cadre votre réponse

LOGIQUE



Le printemps arrive et je dois aller m'occuper du jardin devant ma tanière. Pour m'aider, je vais inviter des copains et leur prêter un équipement complet : une paire de bottes, un mini-rateau et des gants. Combien de copains pourrais-je inviter, sachant qu'ils doivent tous avoir un équipement complet ?



Notez dans le cadre votre réponse