

RALLYE MATHÉMATIQUE CYCLE 1

PS – CORRIGÉ MANCHE 1

Bonjour tout le monde, C'est Bertrand !

Merci pour vos réponses, elles m'ont beaucoup aidé !

Maintenant, voyons si vous avez trouvé les mêmes réponses que moi. Comparez-les avec les miennes et repérez si des petites erreurs se sont glissées parmi vos réponses !

On se retrouve très vite pour la deuxième épreuve. À bientôt !

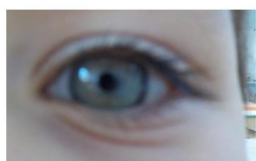



RALLYE MATHÉMATIQUE CYCLE 1 - PS - MANCHE 1

GÉOMÉTRIE



Voici des exemples d'objets ronds que vous auriez pu m'envoyer :



J'ai reçu plein de bonnes réponses ! Merci beaucoup !

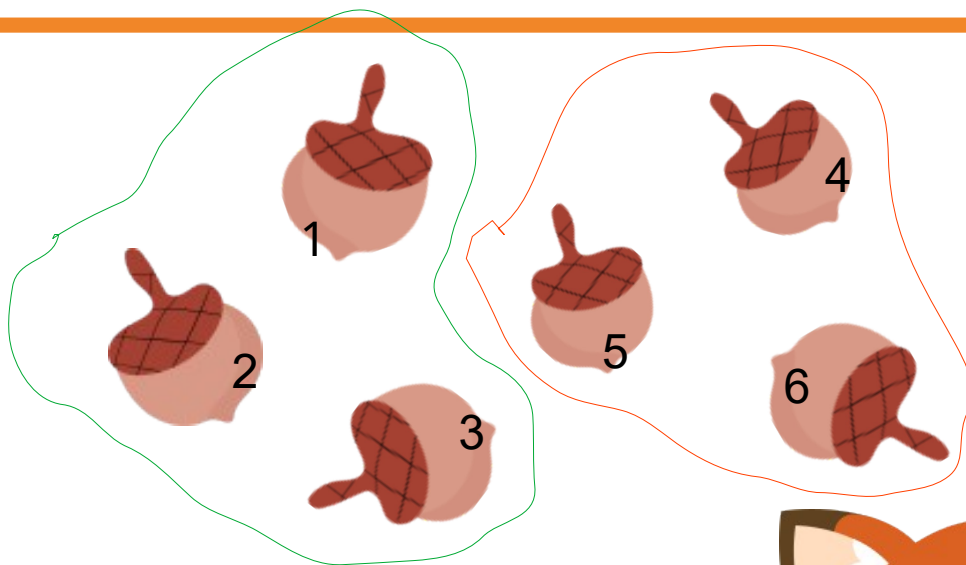
RALLYE MATHÉMATIQUE CYCLE 1 - PS - MANCHE 1
LOGIQUE / ARITHMÉTIQUE



Alors, les amis !

**Avez-vous trouvé combien de glands
Albertine et moi pouvons nous partager ?
C'est le moment de vérifier !**

**Tout d'abord, comptons les glands :
1, 2, 3, 4, 5, 6 ! Il y a 6 glands en tout.**



La réponse :

Si on partage les glands en deux parts égales,
chacun aura la même quantité.
La moitié de 6, c'est 3 !

Albertine et Bertrand peuvent donc avoir 3 glands
chacun !

