

# RALLYE MATHÉMATIQUE CYCLE 1

## GS – MANCHE 3

**Bonjour la compagnie,  
Encore une fois, je suis extrêmement ravi  
d'avoir reçu vos réponses de la manche 3.  
Décidément, vous êtes incroyables !**

**Voici tout de même les réponses aux  
énigmes...**

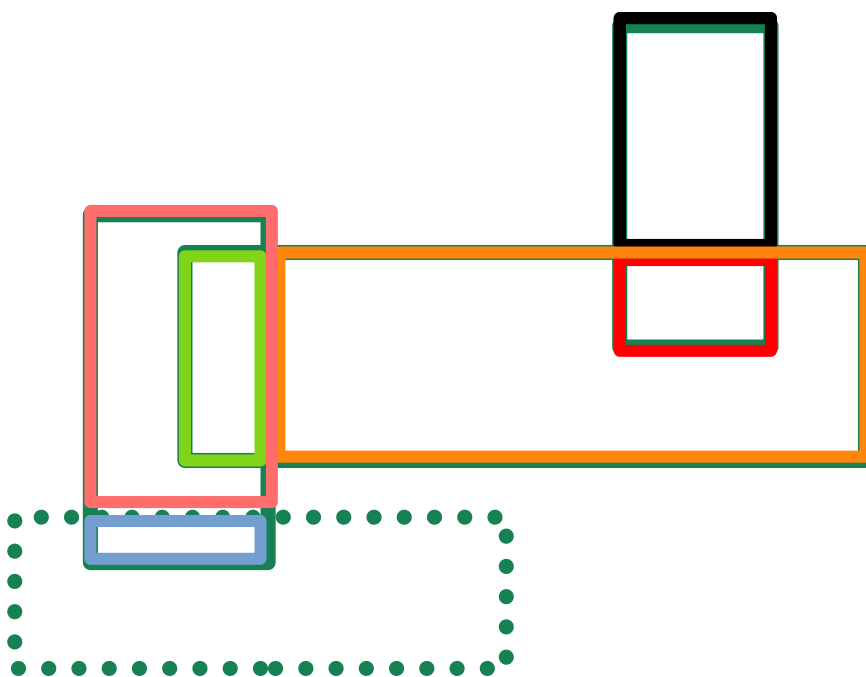
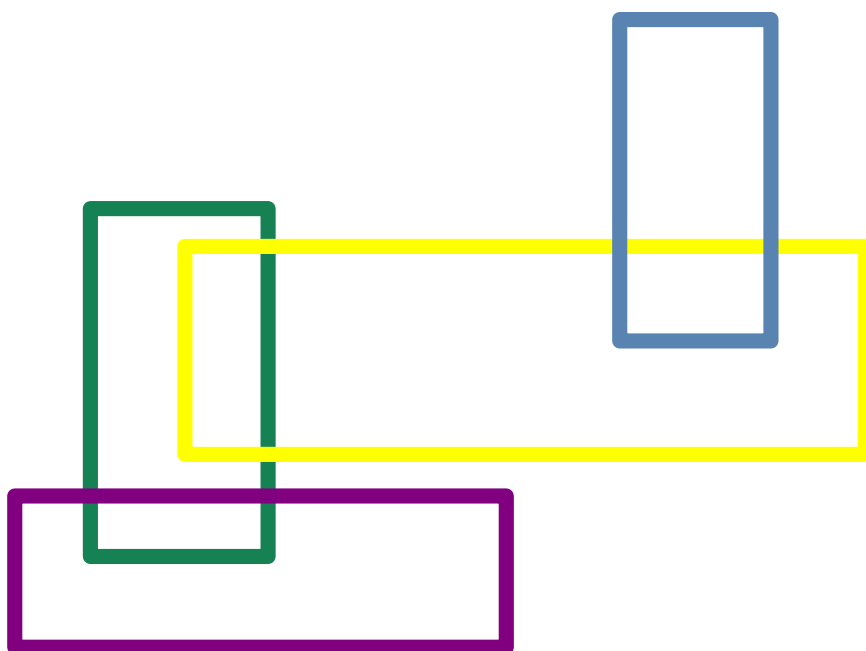
**Avez-vous réussi ?  
Comment vous êtes-vous organisés ?  
Est-ce que ça a été facile de vous mettre  
d'accord ?**



RALLYE MATHÉMATIQUE CYCLE 1 - GS - MANCHE 3  
GÉOMÉTRIE



Avez-vous repéré tous  
les rectangles cachés ?



Notez votre phrase-réponse dans le cadre ci-dessous :

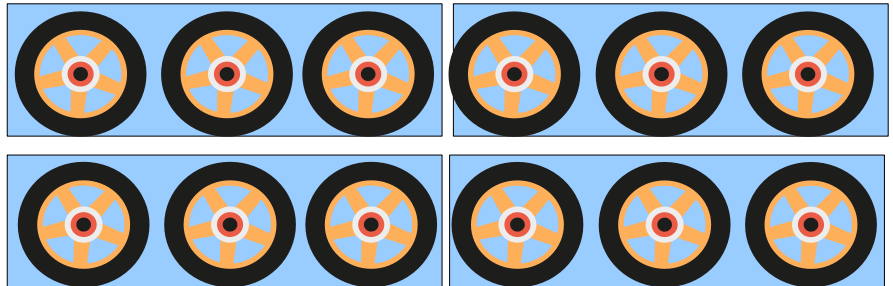
Il y a 10 rectangles dans l'image.

RALLYE MATHÉMATIQUE CYCLE 1 - GS - MANCHE 3  
LOGIQUE

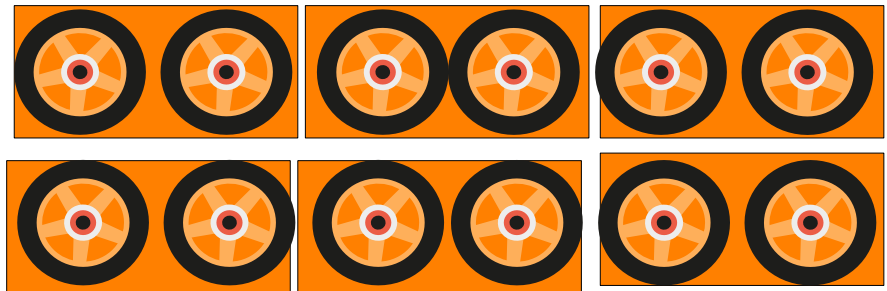


On peut acheter des draisienne et des tricycles mais aussi que des draisienne ou que des tricycles.

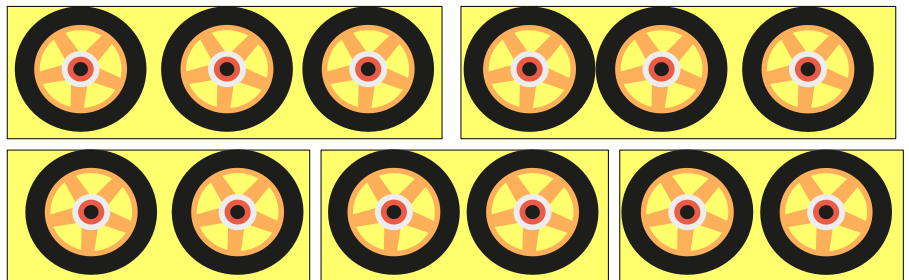
4 tricycles



6 draisienne



2 tricycles  
et 3  
draisienne




Notez les différentes possibilités dans le cadre ci-dessous :

On peut acheter :  
- 4 tricycles  
ou  
- 6 draisienne  
ou  
- 2 tricycles et 3 draisienne

RALLYE MATHÉMATIQUE CYCLE 1 - GS - MANCHE 3  
ARITHMÉTIQUE

Je ne dois compter  
que les boîtes pleines,  
c'est à dire, celles  
contenant 6 oeufs.  
Voyons voir...



Notez votre phrase-réponse dans le cadre ci-dessous :

J'ai réussi à remplir **3 boîtes** complètement.

Il reste 5 oeufs tous seuls.