

RALLYE MATHÉMATIQUE CYCLE 1

MS – MANCHE 3

**Bonjour la compagnie,
Encore une fois, je suis extrêmement ravi
d'avoir reçu vos réponses de la manche 3.
Décidément, vous êtes incroyables !**

**Voici tout de même les réponses aux
énigmes...**

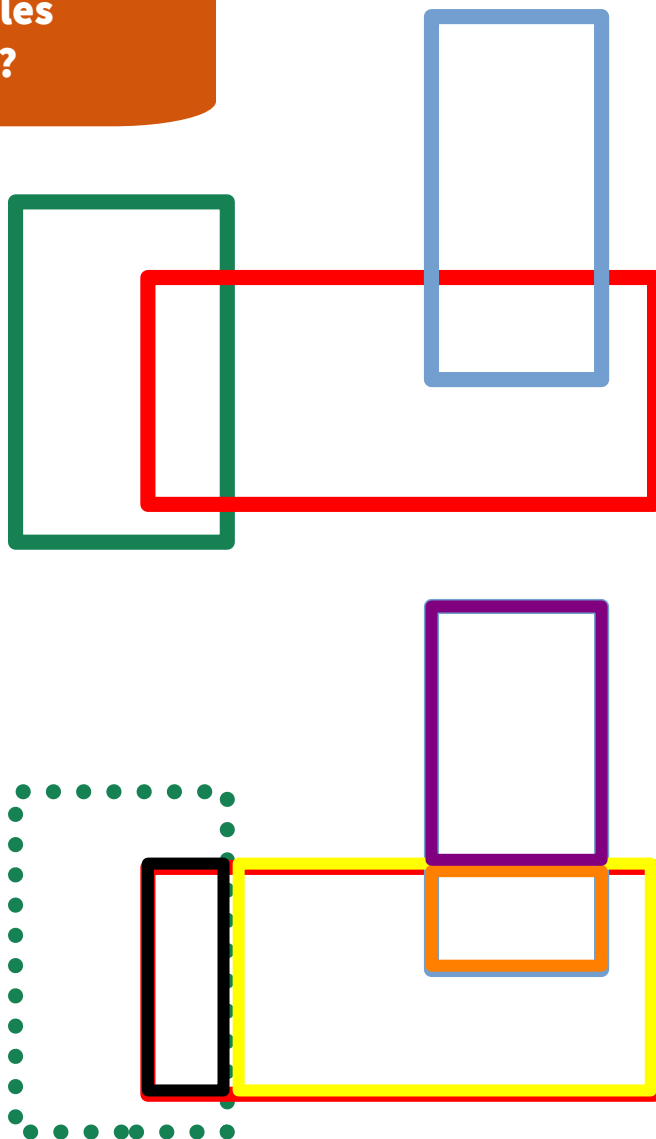
**Avez-vous réussi ?
Comment vous êtes-vous organisés ?
Est-ce que ça a été facile de vous mettre
d'accord ?**



RALLYE MATHÉMATIQUE CYCLE 1 - MS - MANCHE 3
GÉOMÉTRIE



Avez-vous bien vu les
rectangles cachés ?



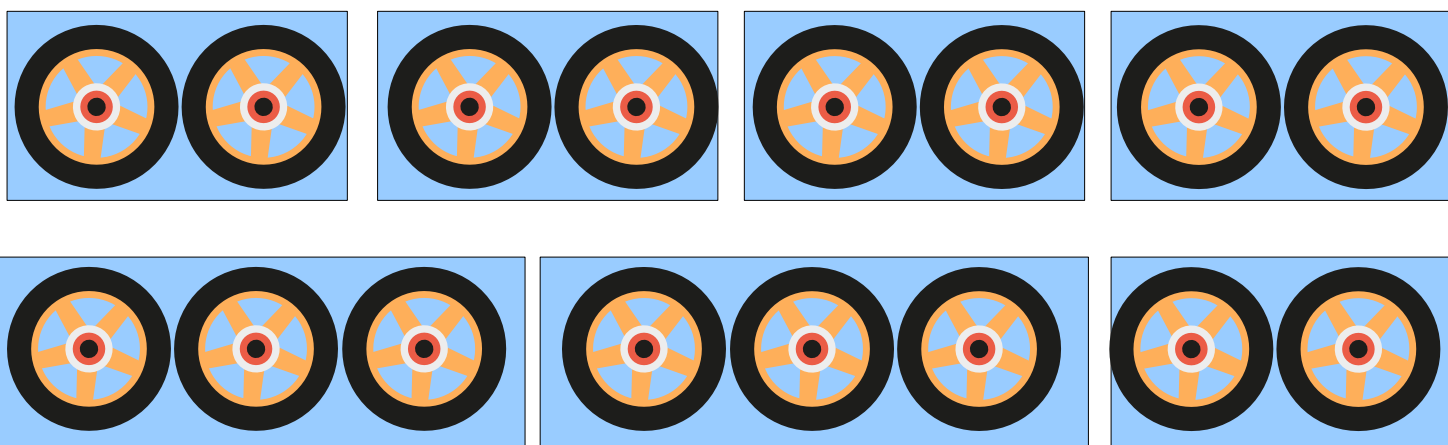
Notez votre phrase-réponse dans le cadre ci-dessous :

IL y a 7 rectangles visibles sur l'image

RALLYE MATHÉMATIQUE CYCLE 1 - MS - MANCHE 3
LOGIQUE



On peut acheter des tricycles et des draisienne, mais aussi que des tricycles ou que des draisienne...Voyons voir...




Notez les différentes possibilités dans le cadre ci-dessous :

On peut acheter :
- 4 draisienne
Ou
- 2 tricycles et 1 draisienne

RALLYE MATHÉMATIQUE CYCLE 1 - MS - MANCHE 3
ARITHMETIQUE

Regardez tous les oeufs de Pâques que j'ai trouvés !
J'aimerais les offrir à mes copains et mes copines
en utilisant mes boîtes en forme de carré.



Notez votre phrase-réponse dans le cadre ci-dessous :

Les boites noire, rouge, verte et bleue sont complètes.

Il reste 2 oeufs seuls.

Donc on peut compléter seulement **4 boites** carrées.