

RALLYE MATHÉMATIQUE CYCLE 1

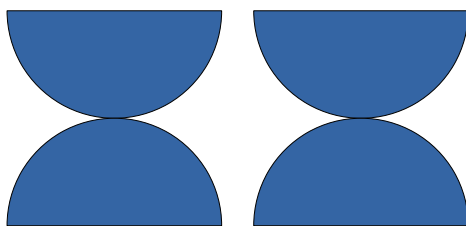

GS – MANCHE 2

Salut les amis, c'est Bertrand !
J'aimerais vous dire que je suis très heureux d'avoir reçu vos réponses pour la première manche du rallye. Vous vous êtes super bien débrouillés ! Félicitations !
Mais est-ce que vous vous en sortirez aussi bien pour la deuxième manche ?
Il va vous falloir de la patience et de l'imagination. Aidez-vous, discutez entre vous pour y arriver.
J'ai déjà hâte d'avoir vos réponses !



RALLYE MATHÉMATIQUE CYCLE 1 - GS - MANCHE 2
GÉOMÉTRIE

En rangeant dans ma tanière j'ai retrouvé ces quatre demi-cercles.



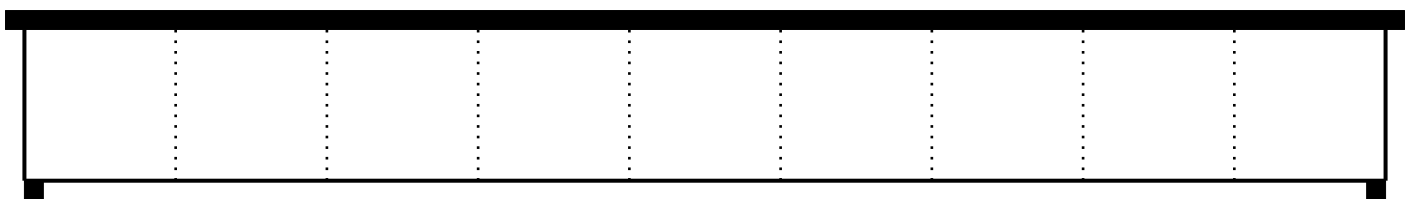

J'ai réussi à réaliser cette figure. Je l'ai appelée "les diabolos". Jolie, vous ne trouvez pas ?

A vous, les enfants ! Trouvez au moins 7 autres figures différentes en utilisant ces quatre formes et donnez-leur un nom !

Aidez-vous avec l'annexe pour cette épreuve. Vous pouvez m'envoyer vos figures en photos et les nommer dans le cadre :

RALLYE MATHÉMATIQUE CYCLE 1 – GS – MANCHE 2
LOGIQUE

J'ai plein de caisses de différentes tailles dans ma tanière ! Heureusement j'ai un meuble de rangement, même s'il est trop petit pour contenir toutes les caisses. Trouvez toutes les possibilités pour ranger des caisses dans le meuble. Combien y a-t-il de possibilités différentes ?



Attention, les poignées des caisses doivent toujours rester en haut !

Aidez-vous de l'annexe et donnez-moi votre réponse dans le cadre :

RALLYE MATHÉMATIQUE CYCLE 1 - GS - MANCHE 2
ARITHMÉTIQUE



Dans ma tanière, j'ai une belle collection d'écussons. J'ai commencé à les numéroter mais j'ai oublié certains chiffres. Pouvez-vous m'aider ? Trouvez les chiffres qui manquent, en les notant sur les écussons !

1	2	3		5	6
7	8	9	10		12
13	14		16	17	18
19			22	23	24