

RALLYE MATHÉMATIQUE CYCLE 1

GS – MANCHE 2

Bonjour !

Quel plaisir d'avoir reçu vos réponses !

Et quelle imagination pour l'épreuve des demi-cercles, félicitations !

L'énigme des caisses n'était vraiment pas simple, c'est vrai, mais vous vous en êtes plutôt bien sortis.


J'ai déjà hâte de vous envoyer la 3ème manche.

A bientôt les copains !



RALLYE MATHÉMATIQUE CYCLE 1 - GS - MANCHE 2
GÉOMÉTRIE

**Voici un petit florilège
de vos trouvailles...**




Les pétales d'une fleur



Une couronne



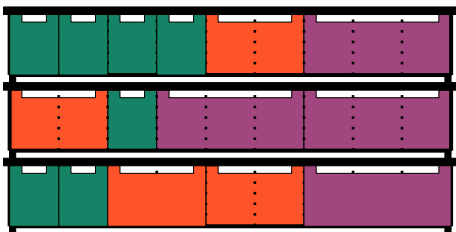
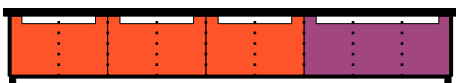
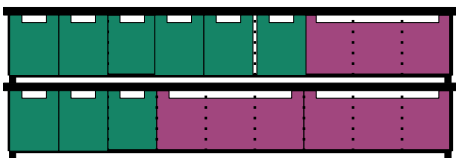
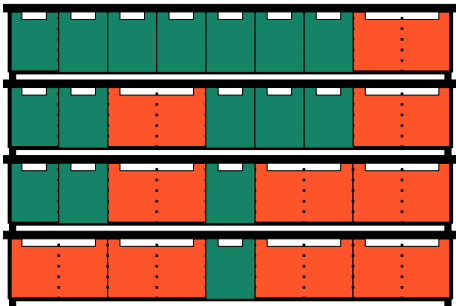
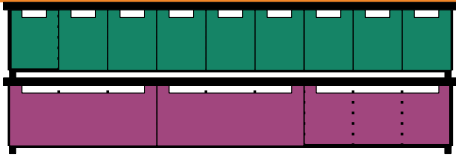
Les champignons



**Aidez-vous avec l'annexe pour ces
vos figures en photos et les nommer dans le cadre :**

RALLYE MATHÉMATIQUE CYCLE 1 – GS – MANCHE 2

LOGIQUE



Attention, les poignées des caisses doivent toujours rester en haut !

Aidez-vous de l'annexe et donnez-moi votre réponse dans le cadre :

12 possibilités de rangement si l'on ne prend en compte que le type de caisse (et pas leur position) sinon un nombre de possibilités trop important.

RALLYE MATHÉMATIQUE CYCLE 1 - GS - MANCHE 2
ARITHMÉTIQUE



Dans ma tanière, j'ai une belle collection d'écussons. J'ai commencé à les numéroter mais j'ai oublié certains chiffres. Pouvez-vous m'aider ? Trouvez les chiffres qui manquent, en les notant sur les écussons !

1	2	3	4	5	6
7	8	9	10	11	12
13	14	15	16	17	18
19	20	21	22	23	24