

# RALLYE MATHÉMATIQUE CYCLE 1

## MS – MANCHE 2

**Salut les amis, c'est Bertrand !**

**J'aimerais vous dire que je suis très heureux d'avoir reçu vos réponses pour la première manche du rallye. Vous vous êtes super bien débrouillés ! Félicitations !**

**Mais est-ce que vous vous en sortirez aussi bien pour la deuxième manche ?**

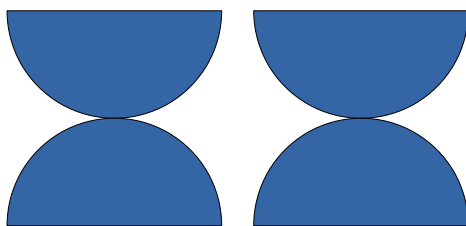

**Il va vous falloir de la patience et de l'imagination. Aidez-vous, discutez entre vous pour y arriver.**

**J'ai déjà hâte d'avoir vos réponses !**



**RALLYE MATHÉMATIQUE CYCLE 1 - MS - MANCHE 2**  
**GÉOMÉTRIE**

**En rangeant dans ma tanière j'ai retrouvé ces quatre demi-cercles.**






**J'ai réussi à réaliser cette figure. Je l'ai appelée "les diabolos". Jolie, vous ne trouvez pas !? A vous, les enfants !**

**Trouvez au moins 5 autres figures différentes en utilisant ces quatre formes et donnez-leur un nom !**

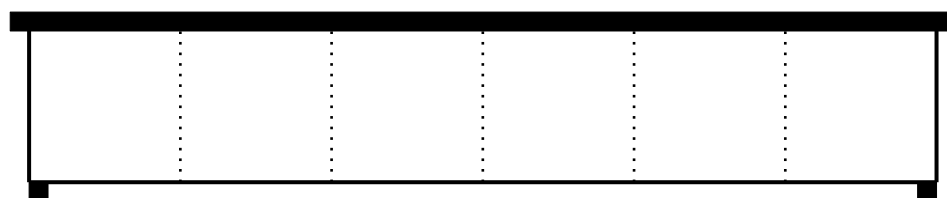
**Aidez-vous de l'annexe pour cette épreuve. Vous pouvez m'envoyer vos figures en photos et les nommer dans le cadre :**

**RALLYE MATHÉMATIQUE CYCLE 1 - MS - MANCHE 2**  
**LOGIQUE**

**J'ai plein de caisses de différentes tailles dans ma tanière ! Heureusement j'ai un meuble de rangement, même s'il est trop petit pour contenir toutes les caisses. Trouvez toutes les possibilités pour ranger des caisses dans le meuble. Combien y a-t-il de possibilités différentes ?**



Attention, les poignées des caisses doivent toujours rester en haut !



**Aidez-vous de l'annexe pour cette épreuve, et donnez-moi votre réponse dans le cadre**

RALLYE MATHÉMATIQUE CYCLE 1 - MS - MANCHE 2  
ARITHMÉTIQUE



Dans ma tanière, j'ai une belle collection d'écussons. J'ai commencé à les numéroté mais j'ai oublié certains chiffres. Pouvez-vous m'aider ? Trouvez les chiffres qui manquent, en les notant sur les écussons !

1	2	3	4
5	6	7	
9		11	12
13		15	16