

RALLYE MATHÉMATIQUE CYCLE 1

PS – MANCHE 2

Bonjour !

Quel plaisir d'avoir reçu vos réponses !

Et quelle imagination pour l'épreuve des demi-cercles, félicitations !

L'énigme des caisses n'était vraiment pas simple, c'est vrai, mais vous vous en êtes plutôt bien sortis.

J'ai déjà hâte de vous envoyer la 3ème manche.

A bientôt les copains !



RALLYE MATHÉMATIQUE CYCLE 1 - PS - MANCHE 2
GÉOMÉTRIE

Voici un petit florilège
de vos trouvailles...




Les pétales d'une fleur



Une couronne



Les champignons




RALLYE MATHÉMATIQUE CYCLE 1 - PS - MANCHE 2
LOGIQUE


Voici toutes les manières
différentes de remplir le
meuble avec les caisses de
jouets.



Au minimum :



Au maximum :



Aidez-vous des annexes et donnez-moi votre réponse dans le cadre :

Selon les avis, il y a 4 ou 9 manières différentes.

RALLYE MATHÉMATIQUE CYCLE 1 - PS - MANCHE 2

ARITHMÉTIQUE



Dans ma tanière, j'ai une belle collection d'écussons. J'ai commencé à les numéroter mais j'ai oublié certains chiffres. Pouvez-vous m'aider ? Trouvez les chiffres qui manquent, en les notant sur les écussons !

Défi 1

designed by freepik

Défi 2

designed by freepik