

RALLYE MATHÉMATIQUE CYCLE 1 – PS – MANCHE 1















Bonjour les enfants, je m'appelle Bertrand le renard. Je vais vous proposer trois énigmes. Pour y répondre, vous allez devoir vous mettre en petits groupes. Vous n'avez pas le droit de demander la réponse au maître ou à la maîtresse, et vous devez vous mettre tous d'accord pour ne donner qu'une seule réponse.

Quand vous aurez fini, prenez des photos et envoyez-les moi par courriel ou par courrier postal. Bonne chance !

RALLYE MATHÉMATIQUE CYCLE 1 – PS – MANCHE 1
LOGIQUE

Voici une grille de SUDOKU. Chaque ligne, chaque colonne, chaque section carrée ne doit contenir qu'une seule fois la même couleur. À toi de placer les quatre ronds qui manquent, et d'expliquer dans le cadre vide comment tu as fait.



RALLYE MATHÉMATIQUE CYCLE 1 – PS – MANCHE 1
ARYTHMÉTIQUE

**Il y a de la place
pour tout le monde
dans le camping-
car, mais chacun
doit attendre son
tour pour monter.
Montrez-moi qui va
monter en
troisième position.**



RALLYE MATHÉMATIQUE CYCLE 1 – PS – MANCHE 1
GÉOMÉTRIE

**Pouvez-vous trouver autour de vous
(dedans ou dehors) trois choses qui
ont la forme d'un cercle, comme un
oeil de chouette, ou la forme d'un
ovale, comme des oeufs de grive ?**

