

RALLYE MATHÉMATIQUE CYCLE 1 – MS – MANCHE 1



Bonjour les enfants, je m'appelle Bertrand le renard. Je vais vous proposer trois énigmes. Pour y répondre, vous allez devoir vous mettre en petits groupes. Vous n'avez pas le droit de demander la réponse au maître ou à la maîtresse, et vous devez vous mettre tous d'accord pour ne donner qu'une seule réponse.









Quand vous aurez fini, prenez des photos et envoyez-les moi par courriel ou par courrier postal. Bonne chance !

RALLYE MATHÉMATIQUE CYCLE 1 – MS – MANCHE 1

LOGIQUE

Voici une grille de SUDOKU. Chaque ligne, chaque colonne, chaque section carrée ne doit contenir qu'une seule fois la même couleur. À toi de placer les quatre ronds qui manquent, et d'expliquer dans le cadre vide comment tu as fait.



RALLYE MATHÉMATIQUE CYCLE 1 – MS – MANCHE 1

ARYTHMÉTIQUE

Il y a de la place pour tout le monde dans le camping-car, mais chacun doit attendre son tour pour monter. Montrez-moi qui va monter en cinquième position.



RALLYE MATHÉMATIQUE CYCLE 1 – MS – MANCHE 1
GÉOMÉTRIE

**Pouvez-vous trouver autour de vous
(dedans ou dehors) cinq choses qui
ont la forme d'un cercle, comme un
oeil de chouette, ou d'un ovale,
comme des oeufs de grive ?**

