

# RALLYE MATHÉMATIQUE CYCLE 1 – GS – MANCHE 1









**Bonjour les enfants, je m'appelle Bertrand le renard. Je vais vous proposer trois énigmes. Pour y répondre, vous allez devoir vous mettre en petits groupes. Vous n'avez pas le droit de demander la réponse au maître ou à la maîtresse, et vous devez vous mettre tous d'accord pour ne donner qu'une seule réponse.**

**Quand vous aurez fini, prenez des photos et envoyez-les moi par courriel ou par courrier postal. Bonne chance !**

**RALLYE MATHÉMATIQUE CYCLE 1 – GS – MANCHE 1**  
**LOGIQUE**

Voici une grille de SUDOKU. Chaque ligne, chaque colonne, chaque section carrée ne doit contenir qu'une seule fois la même couleur. À toi de placer les quatre ronds qui manquent, et d'expliquer dans le cadre vide comment tu as fait.



# RALLYE MATHÉMATIQUE CYCLE 1 – GS – MANCHE 1

## ARYTHMÉTIQUE

Il y a de la place pour tout le monde dans le camping-car, mais chacun doit attendre son tour pour monter. Montrez-moi qui va monter en huitième position.





**RALLYE MATHÉMATIQUE CYCLE 1 – GS – MANCHE 1**  
**GÉOMÉTRIE**

**Pouvez-vous trouver autour de vous  
(dedans ou dehors) sept choses qui  
ont la forme d'un cercle, comme un  
oeil de chouette, ou d'un ovale,  
comme des oeufs de grive ?**

